



PERÚ

Ministerio
de Educación



PRUEBA REGIONAL DE PROCESO MATEMÁTICA

3° Grado



NOMBRE DE LA INSTITUCIÓN EDUCATIVA:

NOMBRE DEL ESTUDIANTE:

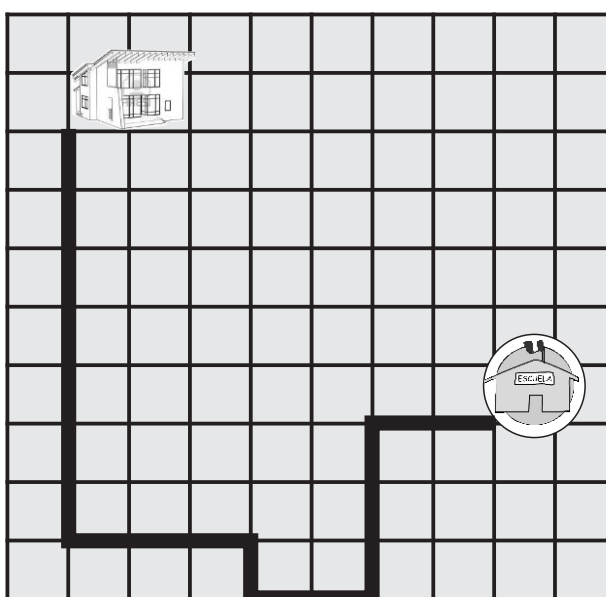

SECCIÓN:



INDICACIONES

1. Lee cada pregunta con mucha atención.
2. Luego resuelve la pregunta y marca con una X la respuesta correcta.
3. Si lo necesitas puedes leer nuevamente la pregunta.
4. Sólo debes marcar una respuesta por cada pregunta.

Observa en el plano el recorrido que hace Elena.



1. ¿Cuántos metros recorre Elena para ir de su casa a la escuela?

a) 18m

b) 45m

c) 90m

2. La señora Zoilava al mercado y ve que el kilo de pescado está a S/. 8 ¿Cuánto deberá de pagar si desea comprar 4 kilos de pescado?

a) 8 soles

b) 16 soles

c) 32 soles




PERÚ

Ministerio
de Educación



3. En la fiesta del aniversario de la I.E "General Prado" invitaron 804 personas. De ellos, 420 son hombres, ¿cuántas son mujeres?

- a) 384
- b) 420
- c) 1224



4. ¿Cuántas monedas de S/. 5 deberá agregar para llegar a la cantidad de S/.235?




- a) 10 monedas
- b) 5 monedas
- c) 3 monedas



5. ¿Cuál es el perímetro y área de la siguiente figura? Si cada cuadrícula mide 1 centímetro cuadrado (cm^2).

- a) 16cm y 9m^2
- b) 16 cm y 9cm^2
- c) 16 cm y 9km^2



6. Juana va al mercado a hacer compras y lleva dinero en su cartera. Después de gastar S/. 205, observa que le queda S/ 309 ¿Cuánto dinero tenía Juana en su cartera?

- a) S/. 314
- b) S/. 414
- c) S/. 514



7. Observa la secuencia y marca cómo se ha formado.



- a) Sumando de cuatro en cuatro
- b) Sumando de cinco en cinco.
- c) Sumando de seis en seis



8. Ubica cada número en el tablero posicional.

- a. 1 centena, 5 unidades
 b. 5 unidades de millar, 4 decenas, 1 centena.
 c. 2 unidades, 3 unidades de millar

UM	C	D	U

a) 145; 1405; 3020.

b) 105; 145; 3200

c) 105; 5140; 3002.

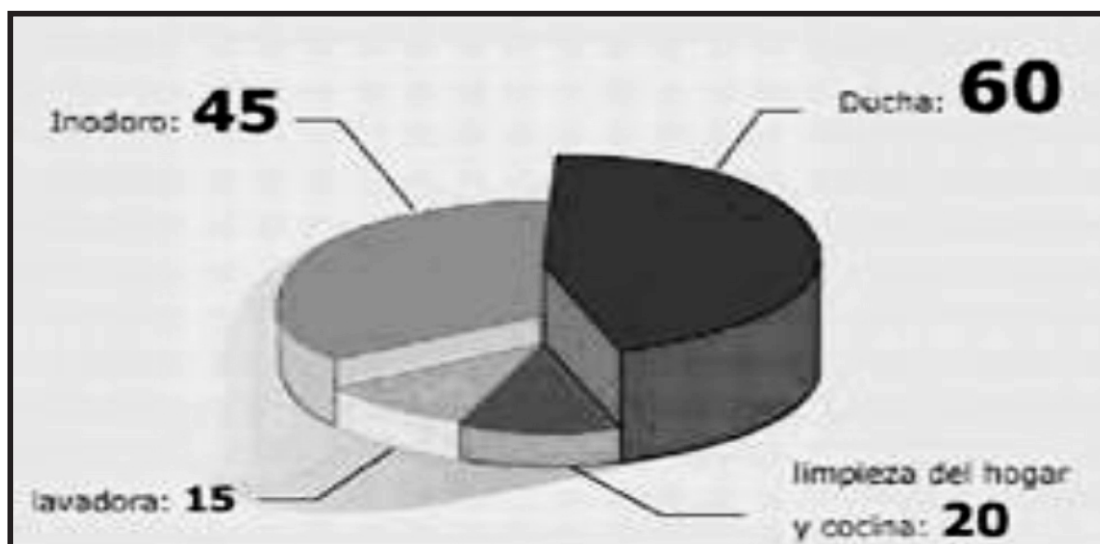
9. En la bodega de Don Víctor, hay 30 paquetes de frugos con 6 botellitas en cada empaque. Si se consumen 3 decenas de botellitas. ¿Cuántas botellitas quedan?

- a) Quedan 130 botellitas
 b) Quedan 150 botellitas
 c) Quedan 100 botellitas

10. En la Av. Colonial, debajo del puente, hay dos vendedores de emoliente. Lucas vendió 405 vasos y Pancho, vendió 248. ¿Cuántos vasos debe vender Pancho, para igualar a Lucas?

- a) 105 vasos
 b) 150 vasos
 c) 157 vasos

11. El siguiente gráfico representa el consumo de agua promedio, en litros y por persona al día.



Según el gráfico, ¿Cuántos litros más de agua que en la lavadora, se gasta en la ducha?

- a) Se gasta 60 litros más
- b) Se gasta 45 litros más
- c) Se gasta 30 litros más

12. Al observar el gráfico anterior se puede afirmar que...

- a) En total se gasta 180 litros de agua diario por persona
- b) En total se gasta 160 litros de agua diario por persona
- c) En total se gasta 140 litros de agua diario por persona


13. Observa el gráfico y responde.

En un corral hay 130 gallinas

Después de seis meses, hay el doble

El dueño vende la mitad

?



¿Cuántas gallinas quedan ahora?

- a) Quedan 360 gallinas
- b) Quedan 260 gallinas
- c) Quedan 130 gallinas

14. Margarita miró la hora dos veces esa mañana. La primera vez miró su reloj de velador y la segunda vez miró el reloj pulsera.



¿Cuánto tiempo pasó entre la primera y la segunda vez que consultó la hora?

- a) 2 horas
- b) 4 horas
- c) 5 horas

15. En una pastelería el sábado se vendió 154 tortas y el domingo 100 más que el sábado. ¿Cuántas tortas se vendió en los dos días?

- a) 254 tortas b) 408 tortas c) 804 tortas

16. La mamá de Pedro tenía S/. 1 200 después compró un televisor y una bicicleta.

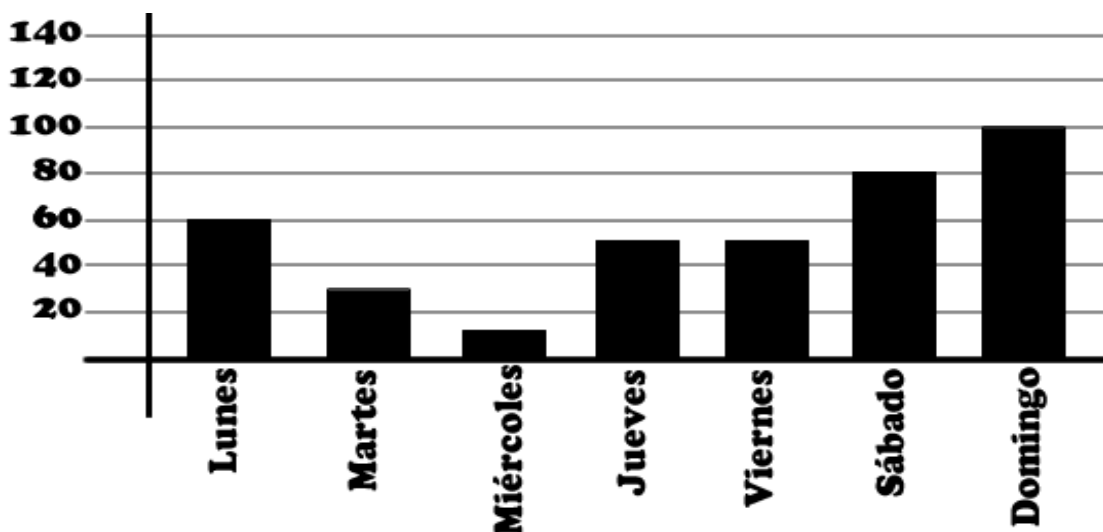
Ahora tiene S/. 150 ¿Cuánto de dinero gastó?

Marca la alternativa correcta:

- a) Gastó S/. 950
b) Gastó S/. 1 050
c) Gastó S/. 1 000

Observa el gráfico de barras

VENTA DE PAN





17 ¿Qué día se vendió más panes ?

- a) Lunes
- b) Sábado
- c) Domingo

18 ¿Qué días se vendieron menos de 40 panes ?

- a) El martes y jueves
- b) El lunes y martes
- c) El martes y miércoles

Luis tiene 85 medallas, su primo Jorge tiene 54 y Elsa tiene 26

19. ¿Cuántas medallas más necesita Jorge para tener tanto como Luis?

- a) Jorge necesita 31 medallas
- b) Jorge necesita 26 medallas
- c) Jorge necesita 36 medallas



20. ¿Cuántas medallas menos que Luis tiene Elsa?

- a) Elsa tiene 50 medallas menos que Luis
- b) Elsa tiene 56 medallas menos que Luis
- c) Elsa tiene 59 medallas menos que Luis