



PERÚ

Ministerio
de Educación



PRUEBA REGIONAL DE PROCESO MATEMÁTICA

2° Grado



NOMBRE DE LA INSTITUCIÓN EDUCATIVA:

NOMBRE DEL ESTUDIANTE:

SECCIÓN:



INDICACIONES

1. Lee cada pregunta con mucha atención.
2. Luego resuelve la pregunta y marca con una X la respuesta correcta.
3. Si lo necesitas puedes leer nuevamente la pregunta.
4. Sólo debes marcar una respuesta por cada pregunta.

1. La suma de 13 y 16 es:

Ahora marca tu respuesta:

a) 5

b) 29

c) 20

2. Si a 19 le restas 13, el resultado es:

a) 30

b) 13

c) 6

3. Javier pega 43 figuritas en su álbum. Pedro pega 21 figuritas. ¿Cuántas figuritas debe pegar Pedro para tener tantas como tiene Javier?

a) 12

b) 64

c) 22



4. ¿Qué juguetes cuestan menos de S/. 40?
Marca con un aspa (x) la respuesta correcta.



S/. 60



S/. 25




S/. 43



S/. 10

- a) La muñeca y trompo
- b) Muñeca y triciclo
- c) Muñeca y robot

5. Observa el trencito:




De acuerdo a la secuencia, ¿qué número sigue en el vagón?

- a) 17
- b) 20
- c) 19



6. Beto tiene 37 Nuevos Soles. ¿Cuánto le falta para comprar el carrito?




a) S/. 45

b) S/. 8

c) S/. 12

CARRITO S/. 45

7. En una repisa hay 48 libros, 19 son de matemática y el resto de comunicación, ¿cuántos libros son de comunicación?



a) 17

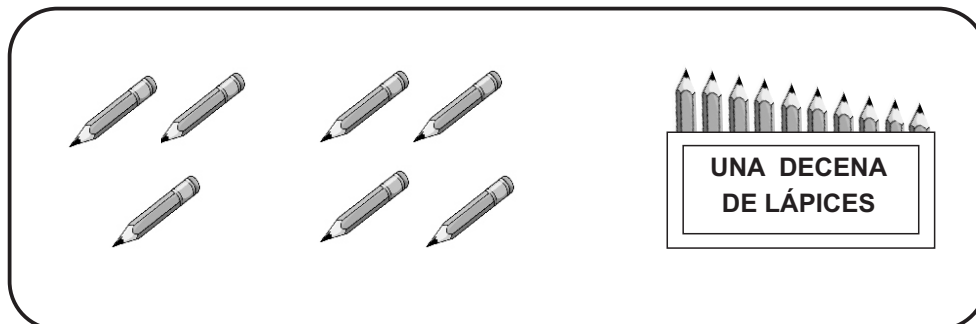
b) 29

c) 30




8. Observa la cantidad de lápices que tiene cada estudiante:


María



Ana




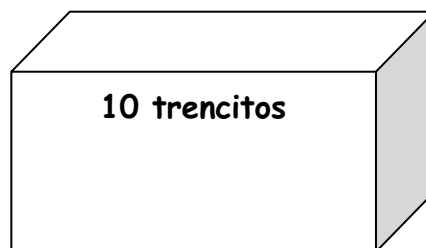
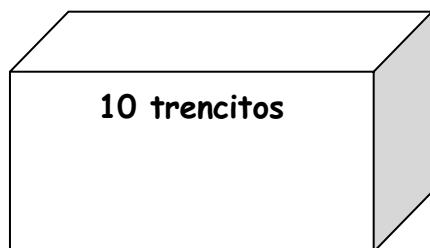
Mónica



¿Quién de las tres tiene más lápices?


- a. María.
- b. Ana
- c. Mónica

9. Observa el dibujo y responde: ¿Cuántos trencitos hay en total?



- a. 39 trencitos.
- b. 33 trencitos.
- c. 16 trencitos.

10. César tiene 21 chipitaps. Si cada 10 chipitaps los debe guardarla en una bolsa. ¿Cuántas bolsas necesitará y cuántos chipitaps le quedarán sueltas?



- a) Necesita 21 bolsas y no le sobra chipitaps.
- b) Necesita 3 bolsas y le sobra 1 chipitaps.
- c) Necesita 2 bolsas y le sobra 1 chipitaps.

11. Observa:



S/.



S/. 8




S/. 14

El osito cuesta el triple de lo que cuesta el caballito.
¿Cuánto cuesta el osito?

- a) S/. 18
- b) S/. 24
- c) S/. 16


12. Esta caja tiene una decena de piñas. Observa:



Juan compró dos de estas cajas y 5 piñas sueltas.
¿Cuántas piñas compró Juan en total?

- a) 15 piñas
- b) 25 piñas
- c) 20 piñas

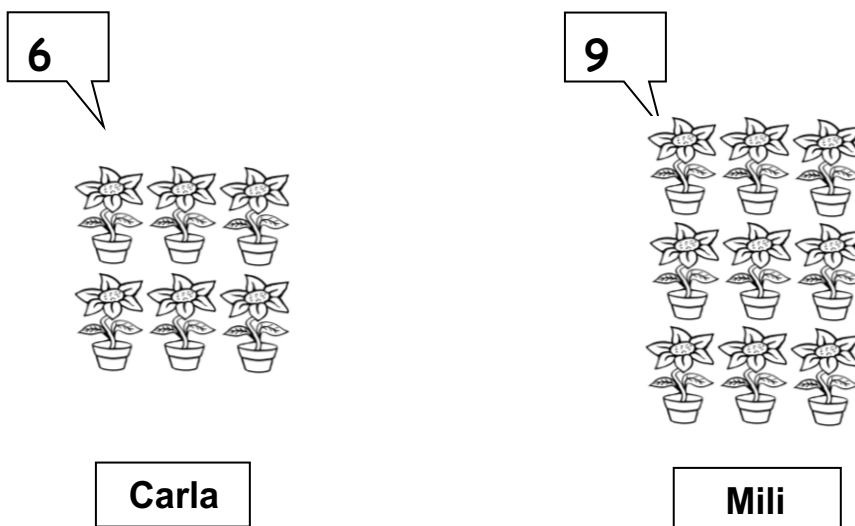
13. Mario tiene 12 manzanas y 16 peras. Observa:



¿Cuántas manzanas menos que peras tiene Mario?

- a) 6 manzanas. b) 14 manzanas. c) 4 manzanas.

14. Observa la cantidad de plantas cuidadas por Carla y Mili



¿Cuántas plantas más que Carla, tiene Mili a su cuidado?

- a) 13 plantas. b) 3 plantas. c) 4 plantas.


15. Hay 16 lapiceros en una cajita. 7 son rojos y el resto son azules ¿Cuántos lapiceros son azules?

- a) 7 lapiceros
- b) 9 lapiceros
- c) 15 lapiceros



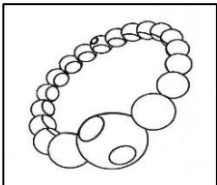

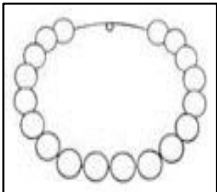





16. José tiene 21 libros en total, 7 están fuera de la caja y el resto está dentro de la caja. ¿Cuántos libros están dentro de la caja?

- a. 11 libros
- b. 13 libros.
- c. 14 libros.



17. Observa:

Artículos	Perlas
<p>aretes</p> 	
<p>pulsera</p> 	
<p>collar</p> 	
<p>anillo</p> 	

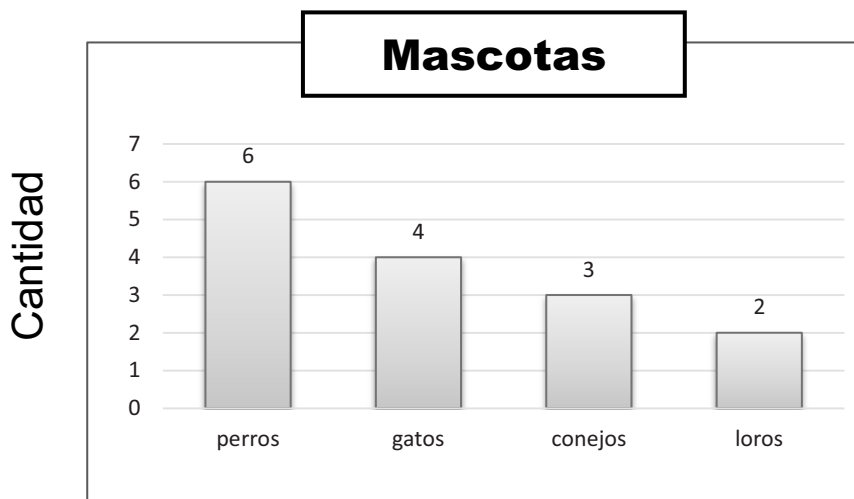
¿Cuántas perlas se usarán para armar 2 anillos y 1 pulsera?

- a) 11 perlas b) 10 perlas c) 12 perlas



18. Observa el gráfico y responde:

¿Cuántas mascotas asistieron a la feria del colegio?



a. 12

b. 16

c. 15

19. La tabla muestra la cantidad de bingos que vendieron Elena y Juan durante la actividad.

Bingos Vendidos:

	Elena	Juan
En la mañana	8	9
En la tarde	14	11

¿Cuántos bingos vendió Elena en total?

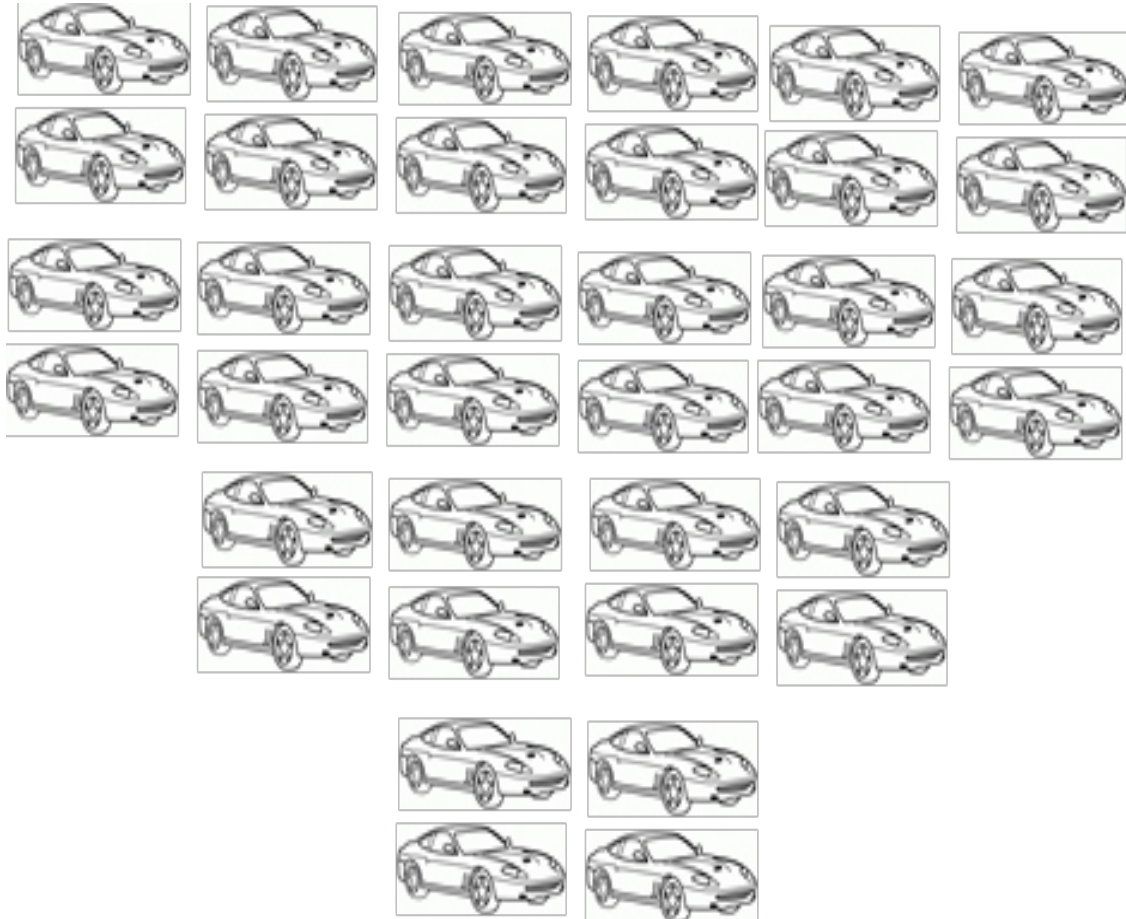
a) 22 bingos

b) 24 bingos

c) 20 bingos



20. Observa las figuras, ¿cuántos carritos hay en total?



- a. 36 decenas de carros.
- b. 6 decenas más 3 unidades de carros.
- c. 3 decenas más 6 unidades de carros.